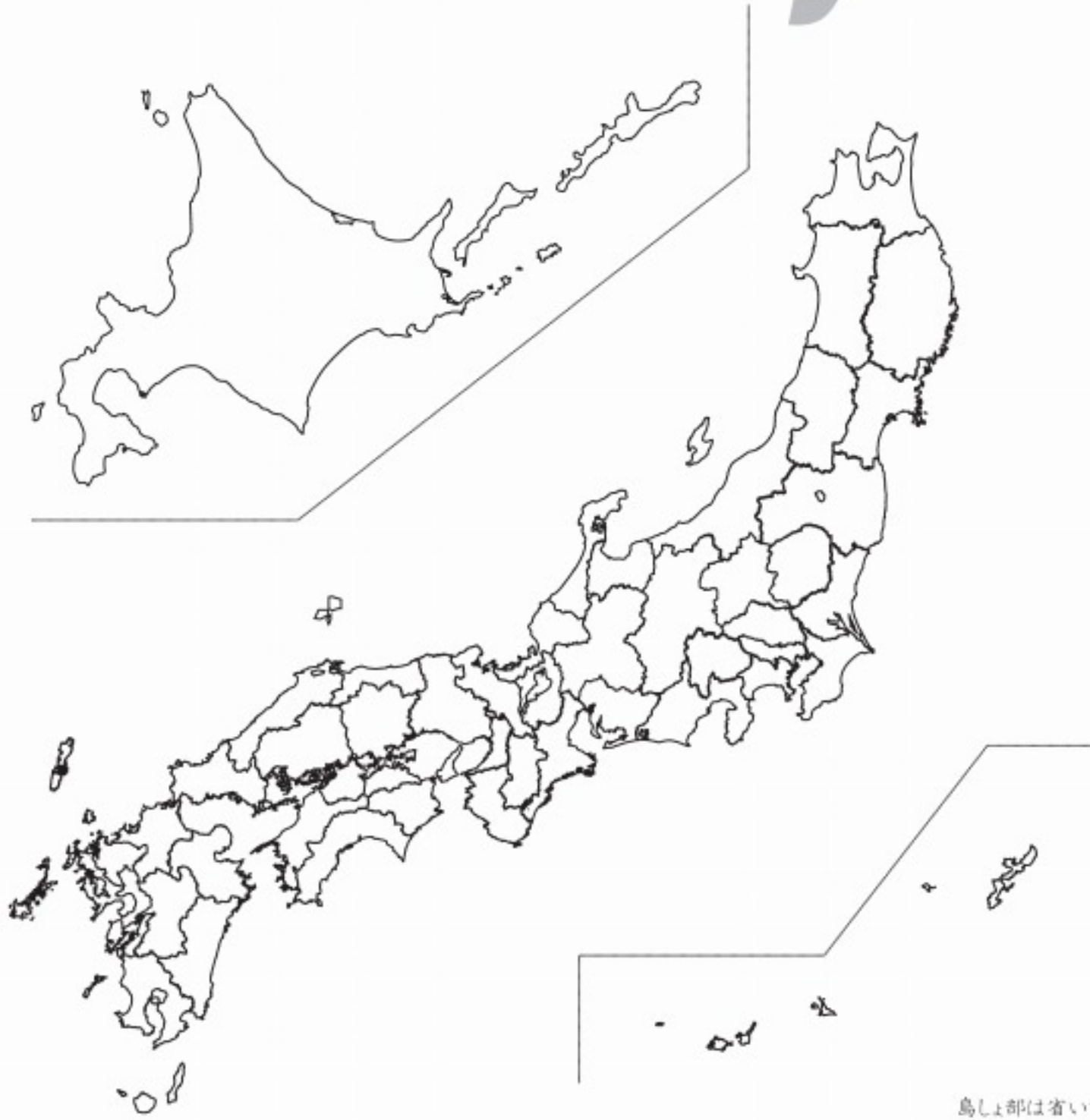


プレジデント Family

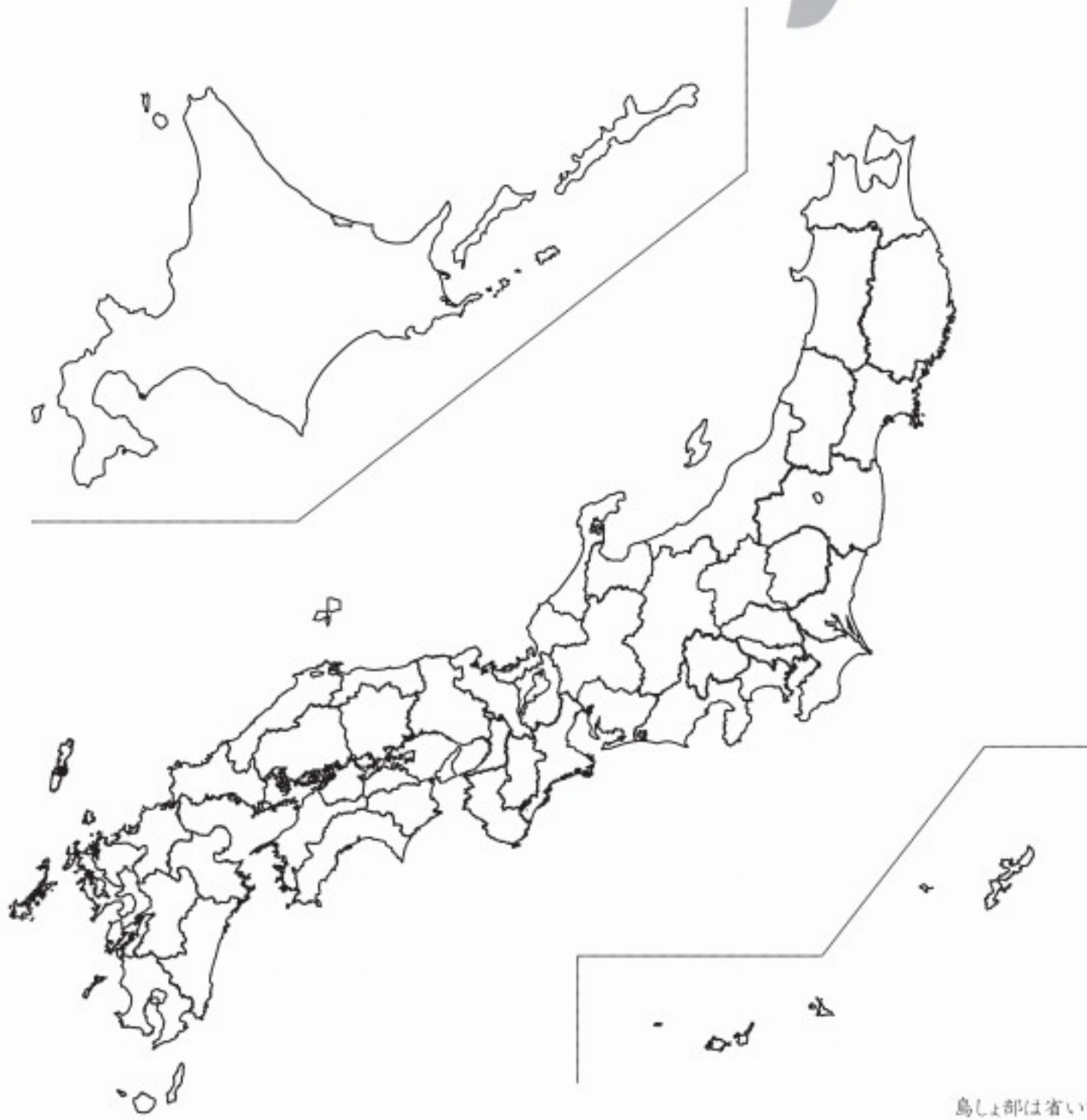


島しょ部は省いているものがあります。

次の設問に答えなさい。また該当する都道府県に色を塗り、問題番号を書き入れなさい。

- | | |
|-------------------------|------------------------|
| ① 焼津港のある都道府県は？
() | ⑥ 八戸港のある都道府県は？
() |
| ② 境港のある都道府県は？
() | ⑦ 気仙沼港のある都道府県は？
() |
| ③ 函館港のある都道府県は？
() | ⑧ 神戸港のある都道府県は？
() |
| ④ 下関港のある都道府県は？
() | ⑨ 横浜港のある都道府県は？
() |
| ⑤ 土佐清水港のある都道府県は？
() | ⑩ 銚子港のある都道府県は？
() |

プレジデント Family

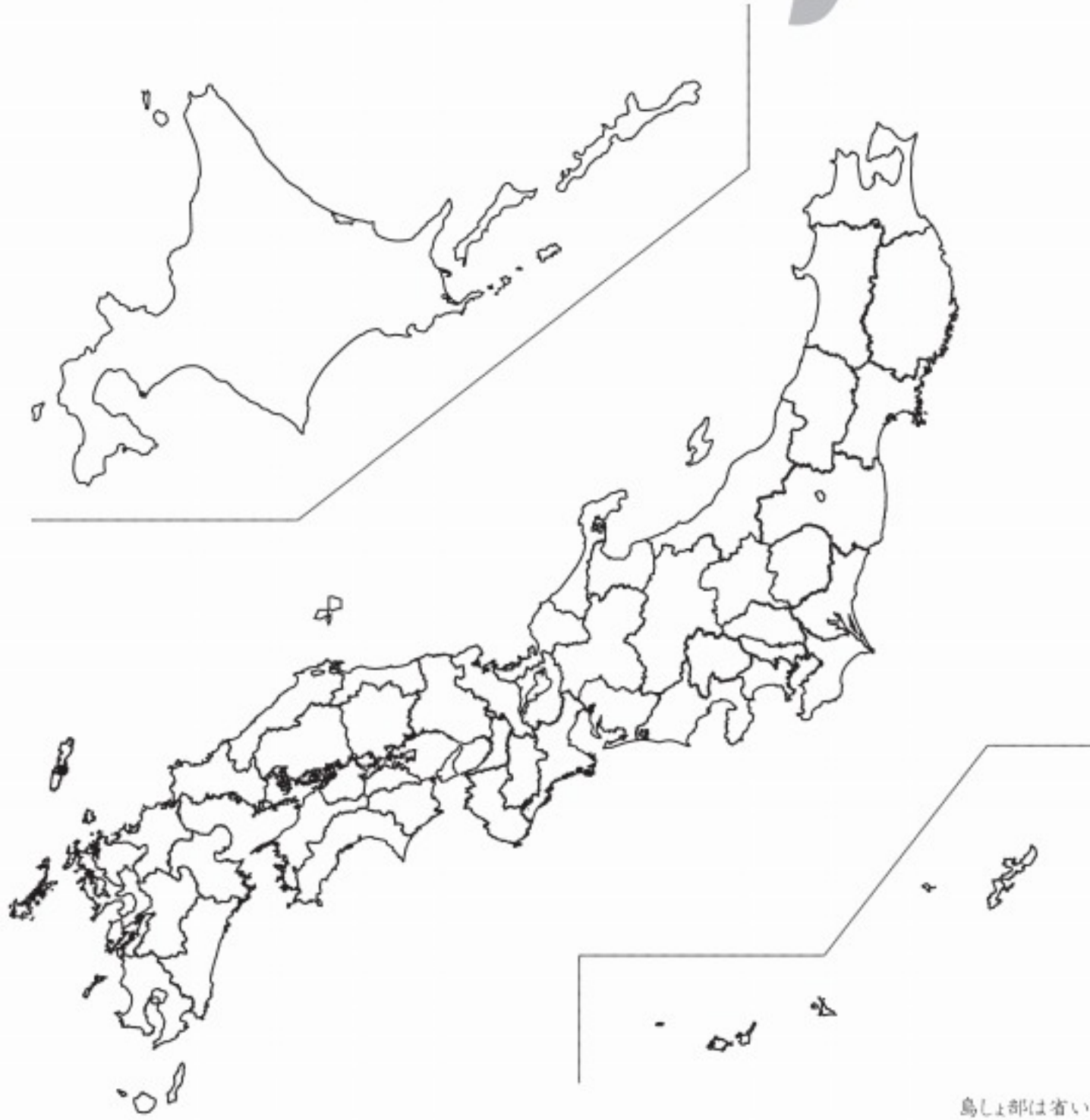


島しょ部は省いているものがあります。

次の設問に答えなさい。また該当する都道府県に色を塗り、問題番号を書き入れなさい。

- | | |
|---------------------------|-------------------------|
| ① 門司港のある都道府県は？
() | ⑥ 松島のある都道府県は？
() |
| ② 日本で2番目に大きい都道府県は？
() | ⑦ 天橋立のある都道府県は？
() |
| ③ 日本で一番小さい都道府県は？
() | ⑧ 琵琶湖のある都道府県は？
() |
| ④ 知床半島のある都道府県は？
() | ⑨ 霞ヶ浦のある都道府県は？
() |
| ⑤ 日光東照宮のある都道府県は？
() | ⑩ 安芸の宮島のある都道府県は？
() |

プレジデント Family

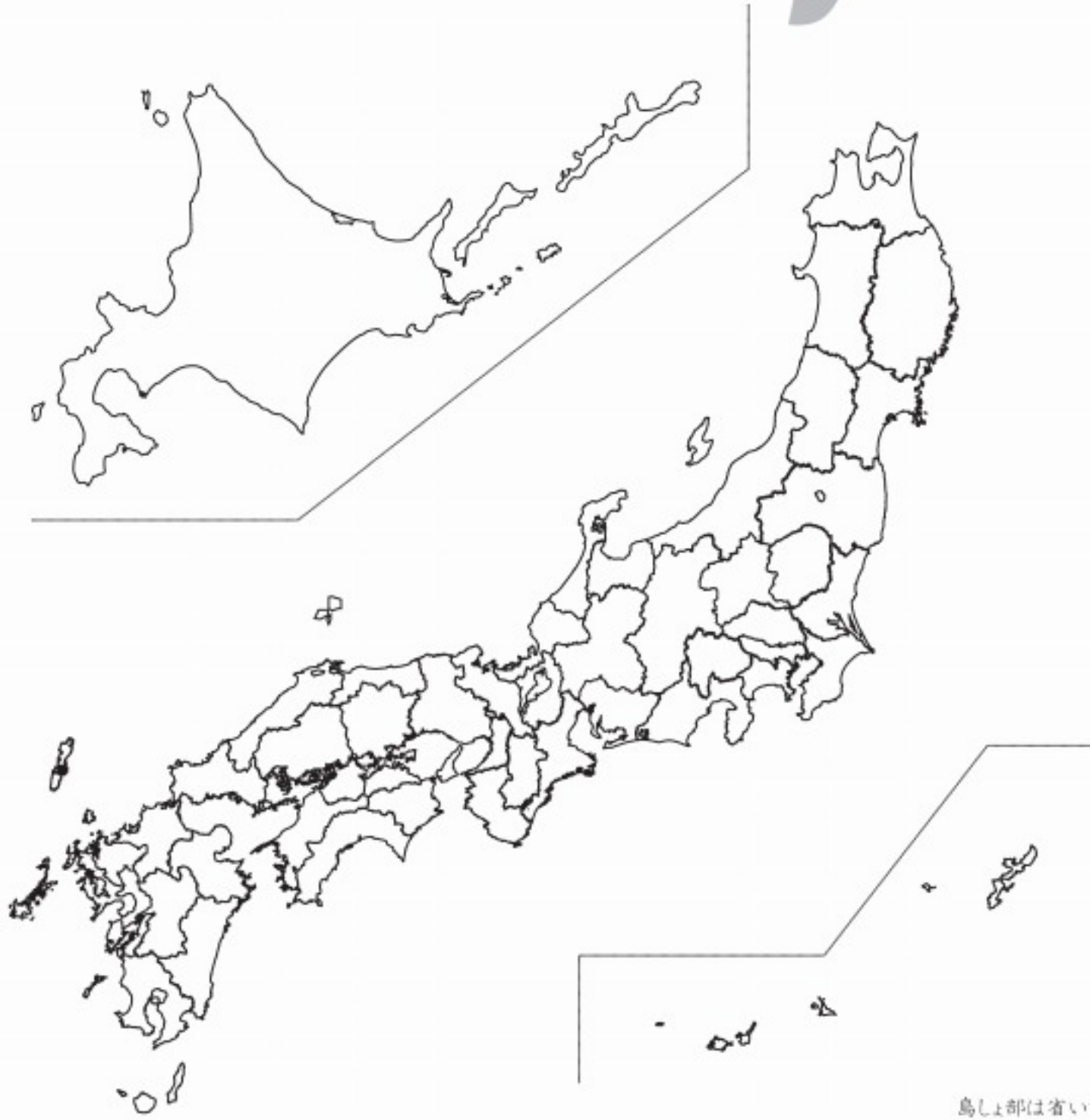


鳥しょ部は省いているものがあります。

次の設問に答えなさい。また該当する都道府県に色を塗り、問題番号を書き入れなさい。

- | | |
|--------------------------|-----------------------------|
| ① 中尊寺金色堂のある都道府県は？
() | ⑥ 志摩半島のある都道府県は？
() |
| ② 敦賀原発のある都道府県は？
() | ⑦ 鳴門の渦潮で有名な都道府県は？
() |
| ③ 黒部ダムのある都道府県は？
() | ⑧ 桜島のある都道府県は？
() |
| ④ 能登半島のある都道府県は？
() | ⑨ 米軍基地の面積が最も広い都道府県は？
() |
| ⑤ 通天閣のある都道府県は？
() | ⑩ 別府、豊後温泉のある都道府県は？
() |

プレジデント Family



島しょ部は省いているものがあります。

次の旧国名は現在の何県にあたりますか。また該当する都道府県に色を塗り、問題番号を書き入れなさい。

- | | |
|-------------|----------|
| ① 土佐 () | ⑥ 越中 () |
| ② 越前 () | ⑦ 甲斐 () |
| ③ 越後 () | ⑧ 三河 () |
| ④ 薩摩 () | ⑨ 琉球 () |
| ⑤ 長州(長門)() | ⑩ 安芸 () |