

- ① スタートから1→2→3のじゅんばんにマスをとって、ゴールまでいきましょう。
おなじマスは2かいとおってははいけません。

スタート



1	2	2	3
3	3	1	2
2	1	1	3
3	3	2	3



ゴール

- ② さいころを2かいなげます。1、3、5が出たら右に2マス、2、4、6が出たら左に1マスうごきます。
1かい目に3、2かい目に6の目が出ました。
はじめに★のいちにいたとき、さいころをなげたあとは、どこにいますか。ばんごうでこたえましょう。

1	2	★	3	4	5	6	7	8
---	---	---	---	---	---	---	---	---

[]

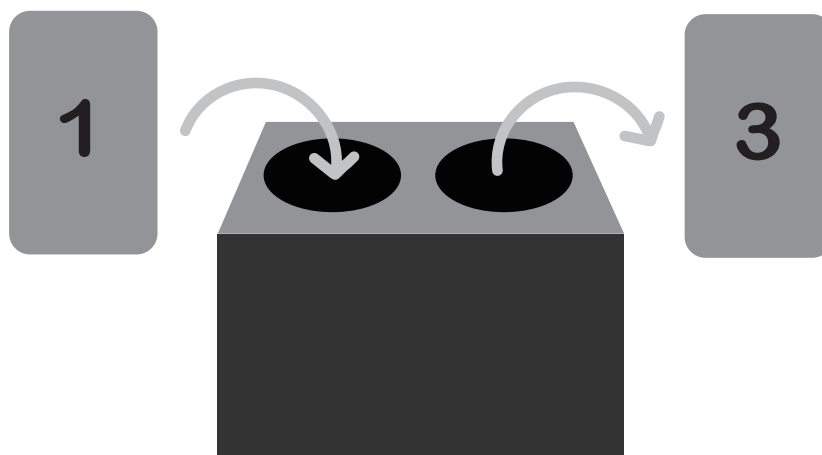
- ① さいころを3かいなげます。1、3、5が出たら左に1マス、2、4、6が出たら右に1マスうごきます。1かい目に2、2かい目に5、3かい目に4の目が出ました。はじめに★のいちにいたとき、さいころをなげたあとは、どこにいますか。ばんごうでこたえましょう。

1	2	3	★	4	5	6
---	---	---	---	---	---	---

[]

- ② はこの中をとったかずは、あるきまりにそって下のひょうのようになります。

入れるかず	1	2	3
出てくるかず	3	4	5



はこに5を入れると、出てるかずはいくつですか。

[]

- ① クラスのみんなで1れつにならびました。
 ゆみさんは、左から5ばん目です。
 ゆうたさんは右から4ばん目です。
 ゆみさんとゆうたさんのあいだに、7人います。
 クラスの人ずうは、なんにんですか。

[]

- ② ●、▲、◆、★があります。
 それぞれ、赤、青、きいろ、白のどれかのいろがついてい
 ます。白いろのかたちは、どれですか。
 ヒントをよんで、みつけましょう。

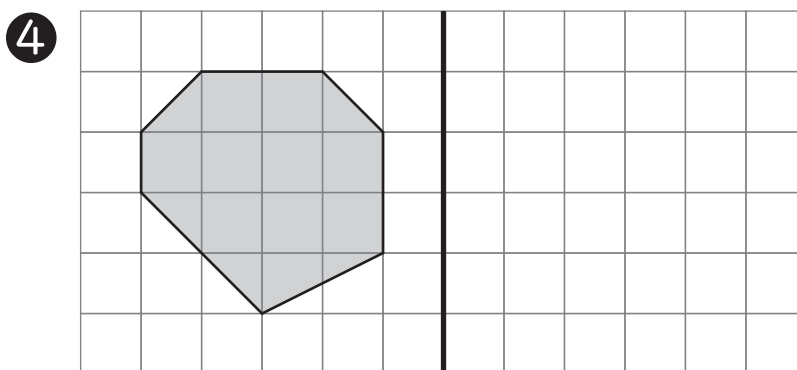
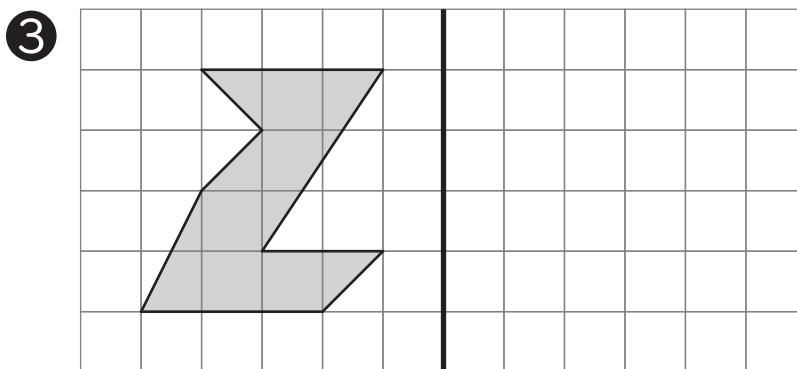
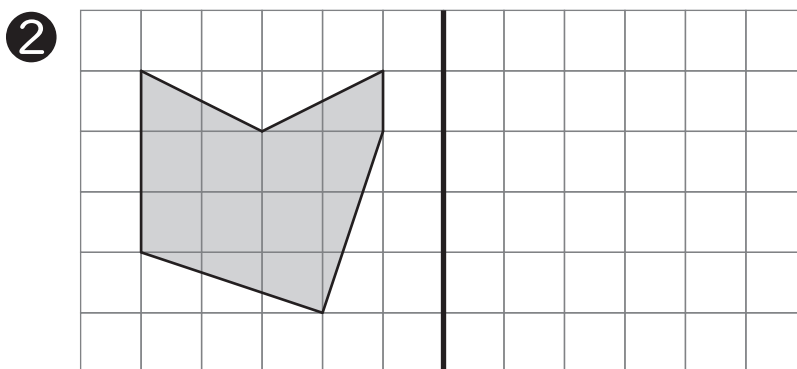
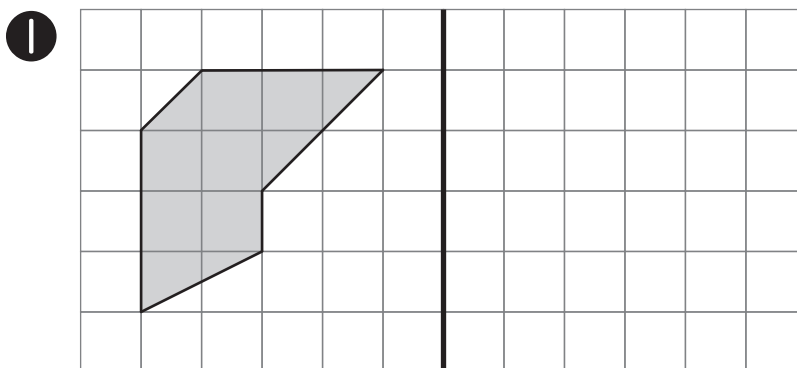
	赤	青	白	きいろ
●				
▲				
◆				
★				

ヒント1 ●は白でも、青でもない
 ヒント2 ▲はきいろ
 ヒント3 ◆は赤か、青

むずかしいときは、ひょうにあてはまるときは○や×、
 あてはまらないときは×のしるしをつけながら考えてみ
 ましょう。

[]

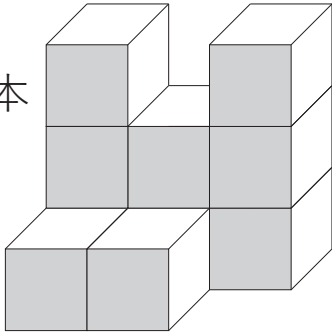
左のずを、まん中のせんをじくにしてひっくりかえすと
どのようになるかをかきましょう。



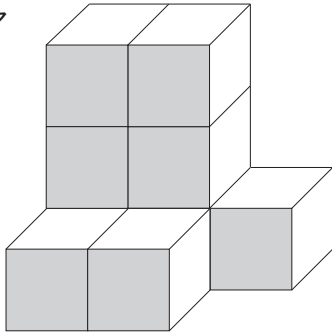
見本のつみ木のうち、なんこかをうごかしてできるかたちはどれですか。ア～ウからえらび、きごうでこたえなさい。

①

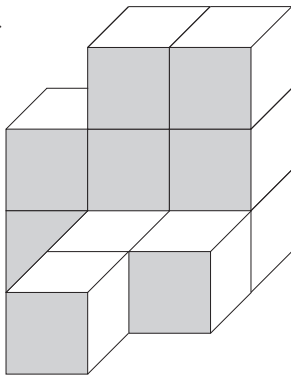
見本



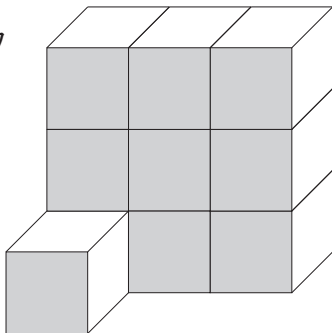
ア



イ



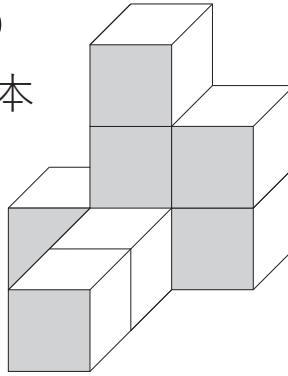
ウ



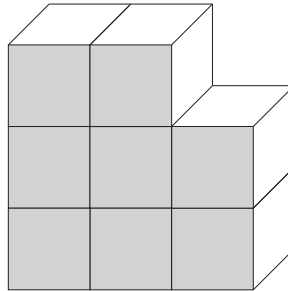
[]

②

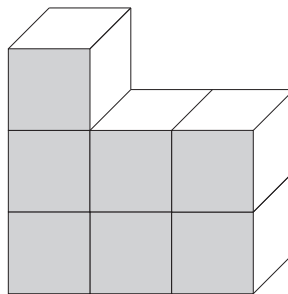
見本



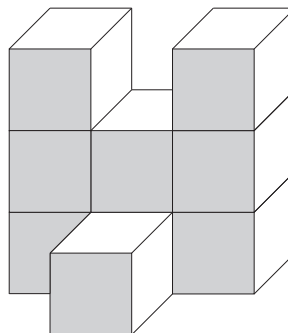
ア



イ



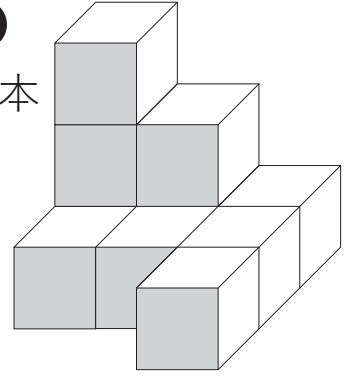
ウ



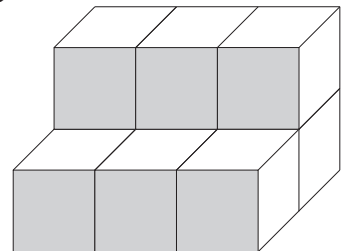
[]

③

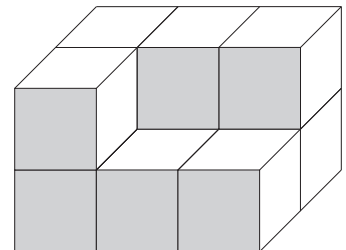
見本



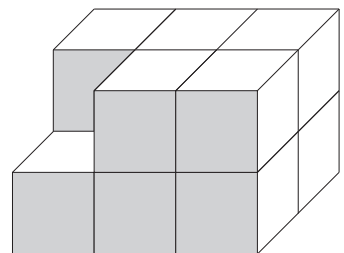
ア



イ



ウ



[]