

# プレジデント Family

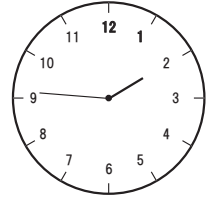
ルールはこれだけ!

短い針: 時 長い針: 分 (教科書では1年生で習うよ)

1時間 = 60分 (教科書では2年生で習うよ)

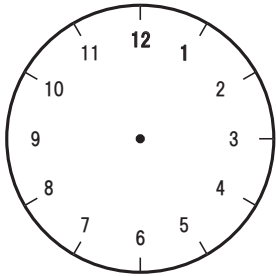
1分 = 60秒 (教科書では3年生で習うよ)

長い針は分をあらわし、数字(すうじ)のかかかれている1めもりは5分を意味(いみ)します。例(たと) えば2時46分なら右の図(ず) のようになります。

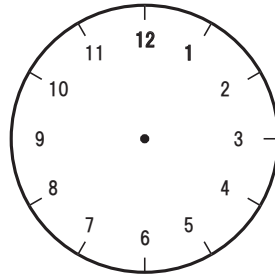


次の時刻を時計にかき入れなさい。(1年生)

① 6じ

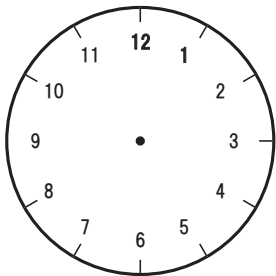


② 2じ30ぶん

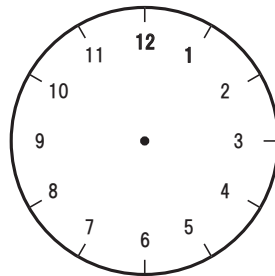


次の時刻を時計にかき入れなさい。(2年生)

③ 4時の1時間30分前



④ 1時30分の45分前



次の時刻を答えなさい。(3年生)

⑤ 7時の50分前は何時何分ですか。( )時( )分

⑥ 8時30分の40分前は何時何分ですか。( )時( )分

⑦ 10時15分の20分前は何時何分ですか。( )時( )分

⑧ 3分45秒+2分25秒=( )分( )秒

⑨ 3分20秒-1分30秒=( )分( )秒

⑩ 5分5秒-2分50秒=( )分( )秒

# President Family

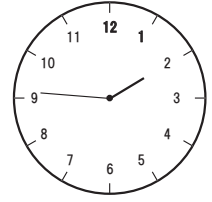
ルールはこれだけ!

短い針: 時 長い針: 分 (教科書では1年生で習うよ)

1時間 = 60分 (教科書では2年生で習うよ)

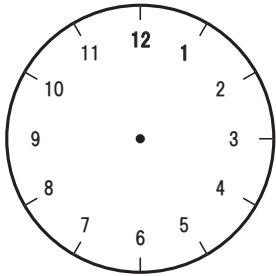
1分 = 60秒 (教科書では3年生で習うよ)

長い針は分をあらわし、数字(すうじ)のかかかれている1めもりは5分を意味(いみ)します。例(たと) えば2時46分なら右の図(ず) のようになります。

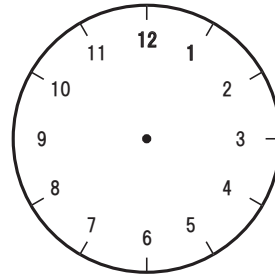


次の時刻を時計にかき入れなさい。(1年生)

① 9じ

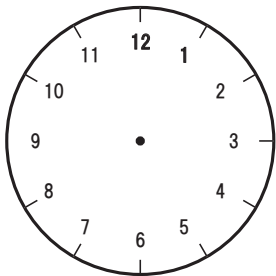


② 12じ30ぶん

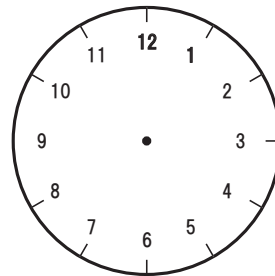


次の時刻を時計にかき入れなさい。(2年生)

③ 4時35分の25分前



④ 8時45分の1時間25分前



次の時刻を答えなさい。(3年生)

⑤ 2時5分の2時間後は何時何分ですか。( )時( )分

⑥ 11時25分の30分前は何時何分ですか。( )時( )分

⑦ 2時40分の1時間30分後は何時何分ですか。( )時( )分

⑧ 9時37分の25分後は何時何分ですか。( )時( )分

⑨ 10時16分の50分後は何時何分ですか。( )時( )分

⑩ 7時20分の40分前は何時何分ですか。( )時( )分

# President Family


ルールはこれだけ!

短い針:時 長い針:分(教科書では1年生で習うよ)

1時間=60分(教科書では2年生で習うよ)

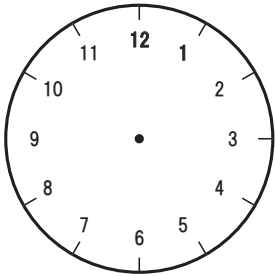
1分=60秒(教科書では3年生で習うよ)

長い針は分をあらわし、数字(すうじ)のかかかれている1めもりは5分を意味(いみ)します。例(たと) えば2時46分なら右の図(ず) のようになります。

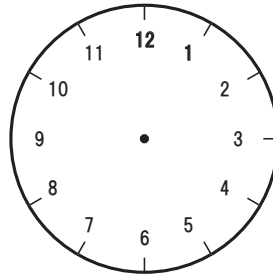


次の時刻を時計にかき入れなさい。(1年生)

① 12じ30ぶん

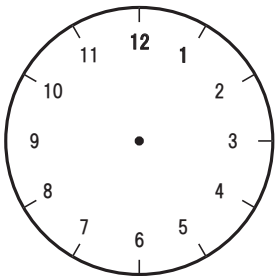


② 11じ

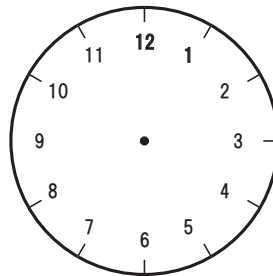


次の時刻を時計にかき入れなさい。(2年生)

③ 11時50分の1時間30分前



④ 4時5分の1時間10分前



次の時刻を答えなさい。(3年生)

⑤ 6時30分の3時間後は何時何分ですか。( )時( )分

⑥ 9時30分の40分後は何時何分ですか。( )時( )分

⑦ 8時の80分後は何時何分ですか。( )時( )分

⑧ 9時20分の50分後は何時何分ですか。( )時( )分

⑨ 2時30分の80分後は何時何分ですか。( )時( )分

⑩ 4時10分の150分後は何時何分ですか。( )時( )分

# プレジデント Family

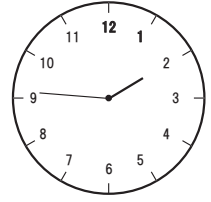
ルールはこれだけ!

短い針: 時 長い針: 分 (教科書では1年生で習うよ)

1時間 = 60分 (教科書では2年生で習うよ)

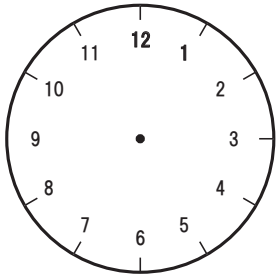
1分 = 60秒 (教科書では3年生で習うよ)

長い針は分をあらわし、数字(すうじ)のかかかれている1めもりは5分を意味(いみ)します。例(たと) えば2時46分なら右の図(ず) のようになります。

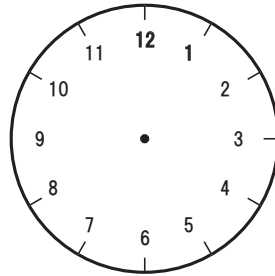


次の時刻を時計にかき入れなさい。(1年生)

① 8じ

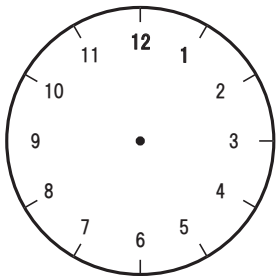


② 10じ30ぶん

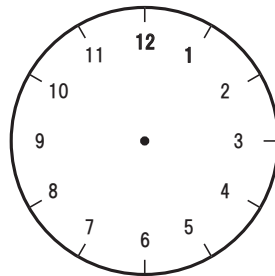


次の時刻を時計にかき入れなさい。(2年生)

③ 3時の55分前



④ 7時45分の50分前



次の時刻を答えなさい。(3年生)

⑤ 9時10分の40分後は何時何分ですか。( )時( )分

⑥ 4時20分の30分前は何時何分ですか。( )時( )分

⑦ 8時24分の38分後は何時何分ですか。( )時( )分

⑧ 2時5分の140分後は何時何分ですか。( )時( )分

⑨ 3時17分の45分後は何時何分ですか。( )時( )分

⑩ 2時35分の70分後は何時何分ですか。( )時( )分